

CONHECIMENTOS GERAIS

ATUALIDADES

1. Uma estudante de turismo foi hostilizada em sua universidade por colegas e funcionários supostamente pelo fato de estar com um vestido curto. Diversos vídeos foram divulgados na internet com cenas do dia e a saída da estudante somente ocorreu com a chegada da Polícia Militar ao local. Os seguranças da instituição foram acusados pela aluna de dificultar sua saída e se negarem a solicitar o reforço policial.

FONTE: <http://www1.folha.uol.com.br/folha/educacao/ult305u645987.shtml>

31/OUTUBRO/2009

Selecione a alternativa que contém o nome da aluna envolvida no ocorrido:

- (A) Dyrce Vendramel.
- (B) Geysel Arruda.
- (C) Fernanda Ventura.
- (D) Danusa Carmo.

2. O governador do Distrito Federal, José Roberto Arruda (DEM), e seu vice, Paulo Octávio, estão sendo investigados pela Operação Pandora da Polícia Federal por um suposto esquema de propina, também conhecido como “mensalinho”. A OAB (Ordem dos Advogados do Brasil) já protocolou um pedido de *impeachment* contra o governador e o seu vice.

FONTE: <http://noticias.uol.com.br/politica/2009/12/01/ult5773u3141.jhtm>

01/DEZEMBRO/2009

Qual símbolo natalino serviu de argumento para o governador do Distrito Federal justificar o desvio de verbas públicas:

- (A) Peru.
- (B) Chester.
- (C) Panetone.
- (D) Bacalhau.

3. O campeão mundial Tiger Woods perdeu o patrocínio da multinacional Accenture ao afirmar que abandonaria o circuito mundial por tempo indeterminado. Além da multinacional, a empresa Gilette já havia reduzido as inserções com o atleta na mídia após a revelação do escândulo sexual no qual Tiger havia se envolvido. O pedido de afastamento do circuito teria vindo da esposa do atleta.

FONTE: [http://esporte.uol.com.br/ultimas-noticias/efe/2009/12/13/tiger-woods-perde-mais-um-patrocínio-apos-escandalo-](http://esporte.uol.com.br/ultimas-noticias/efe/2009/12/13/tiger-woods-perde-mais-um-patrocínio-apos-escandalo-conjugal.jhtm)

[conjugal.jhtm](http://esporte.uol.com.br/ultimas-noticias/efe/2009/12/13/tiger-woods-perde-mais-um-patrocínio-apos-escandalo-conjugal.jhtm)

13/DEZEMBRO/2009

Por qual esporte o atleta Tiger Woods se tornou uma das pessoas mais bem pagas do mundo:

- (A) Tênis.
- (B) Pôquer.
- (C) Golfe.
- (D) Críquete.

4. No dia 04/10/2009, morreu aos 74 anos a cantora Mercedes Sosa, após hospitalizada por mais de um mês. Também conhecida como “La Negra”, Sosa teve uma carreira de mais de quatro décadas, convertendo-se assim em uma das vozes mais representativas da América Latina.

FONTE: <http://www1.folha.uol.com.br/folha/ilustrada/ult90u632301.shtml>

04/OUTUBRO/2009

Qual é o país de origem da cantora Mercedes Sosa?

- (A) Chile.
- (B) Peru.
- (C) Bolívia.
- (D) Argentina.

LÍNGUA PORTUGUESA

Leia atentamente o texto abaixo:

RECEITA DE ANO NOVO

Para você ganhar belíssimo Ano Novo
cor do arco-íris, ou da cor da sua paz,
Ano Novo sem comparação com todo o tempo já vivido
(mal vivido talvez ou sem sentido)
para você ganhar um ano
não apenas pintado de novo, remendado às carreiras,
mas novo nas sementinhas do vir-a-ser;
novo
até no coração das coisas menos percebidas
(a começar pelo seu interior)
novo, espontâneo, que de tão perfeito nem se nota,
mas com ele se come, se passeia,
se ama, se compreende, se trabalha,
você não precisa beber champanha ou qualquer outra birita,
não precisa expedir nem receber mensagens
(planta recebe mensagens?
passa telegramas?)

**Não precisa
fazer lista de boas intenções
para arquivá-las na gaveta.
Não precisa chorar arrependido
pelas besteiras consumadas
nem parvamente acreditar
que por decreto de esperança
a partir de janeiro as coisas mudem
e seja tudo claridade, recompensa,
justiça entre os homens e as nações,
liberdade com cheiro e gosto de pão matinal,
direitos respeitados, começando
pelo direito augusto de viver.**

**Para ganhar um Ano Novo
que mereça este nome,
você, meu caro, tem de merecê-lo,
tem de fazê-lo novo, eu sei que não é fácil,
mas tente, experimente, consciente.
É dentro de você que o Ano Novo
cochila e espera desde sempre.**

(Carlos Drummond de Andrade)

5. A palavra “parvamente” significa no texto:

- (A) tolamente.
- (B) esperançosamente.
- (C) alegremente.
- (D) inutilmente.

6. Assinale a alternativa que apresenta o tipo de texto empregado pelo autor:

- (A) narração.
- (B) dissertação.
- (C) descrição.
- (D) crônica.

7. “começando pelo direito augusto de viver.”

Assinale a alternativa que apresenta o antônimo da palavra em destaque na frase acima:

- (A) preso.

- (B) triste.
- (C) mínimo.
- (D) indiferente.

8. Indique a alternativa incorreta quanto ao emprego do verbo:

- (A) Eu fui ao setor de compras.
- (B) Tu fostes ao setor de compras.
- (C) Ela foi ao setor de compras.
- (D) Eles foram ao setor de compras.

9. Assinale a alternativa em que deveria ser utilizado o sinal de crase:

- (A) Ele disse a você para enviar o relatório.
- (B) A quantidade de reclamações tende a diminuir.
- (C) A reunião será daqui a uma semana.
- (D) Assisti a cena pela televisão.

10. Indique a alternativa que apresenta pronome relativo de lugar:

- (A) Aquele bairro foi onde apareceu o maior foco de mosquitos.
- (B) Quem fumar aqui será punido.
- (C) Eis aqui a nova enfermeira de que necessitávamos.
- (D) Eu aviso quando chegar o medicamento.

11. Assinale a alternativa em que aparece preposição de lugar:

- (A) Estava tremendo de febre.
- (B) Ele saiu com a ambulância.
- (C) Comprei o carro de Lucas.
- (D) Estou em casa hoje.

12. Assinale a alternativa que apresenta erro de concordância nominal:

- (A) Vão anexas as receitas.
- (B) Os ventos e as chuvas prejudicaram os trabalhos.
- (C) Ela tinha carros e jóias caras.
- (D) Passadas três semanas, retornou ao posto.

MATEMÁTICA

13. Se um círculo e um quadrado tem áreas iguais, então a razão entre o comprimento da circunferência e o perímetro do quadrado é:

- (A) $2/\pi$
- (B) $\frac{2}{\sqrt{\pi}}$

(C) $\frac{\sqrt{\pi}}{2}$

(D) $\pi/2$

14. A equação de uma reta, paralela à reta $x + y - 4 = 0$ e distante $3\sqrt{2}$ do ponto $P = (2,1)$ é dada por:

(A) $x + y + 3 = 0$

(B) $x + y - 9 = 0$

(C) $x + y - 3 = 0$

(D) $x + y + 6 = 0$

15. Uma pessoa foi em uma papelaria e comprou três produtos diferentes. Se tivesse comprado quaisquer dois deles, gastaria R\$ 50,00. Quanto esta pessoa gastou em R\$ nesta compra:

(A) 25.

(B) 50.

(C) 75.

(D) 100.

16. Se uma matriz quadrada A de ordem n tem determinante satisfazendo a equação $\det(A^2) + 2\det(A) + 1 = 4$, então o valor do $\det(A)$ será:

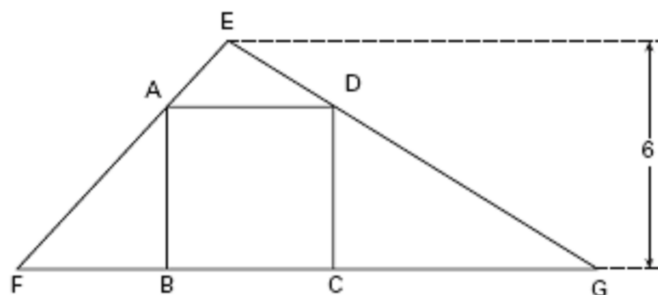
(A) -1 ou 3.

(B) -3 ou 1.

(C) 1 ou 3.

(D) -1 ou -3.

17. Na figura, $ABCD$ é um quadrado inscrito no triângulo EFG . Se a medida de FG é 12, o perímetro do quadrado é :



(A) 4.

(B) 12.

(C) 16.

(D) 20.

18. Uma pessoa foi em uma papelaria e comprou três produtos diferentes. Se tivesse comprado quaisquer dois deles, gastaria R\$ 50,00. Quanto esta pessoa gastou em R\$ nesta compra:

- (A) 4.
- (B) 12.
- (C) 16.
- (D) 20.

19. Um ciclista programou seu treinamento de tal modo que percorra uma distância fixa por dia e que aumente, a cada semana, a distância diária da semana anterior em 20%. Se o objetivo do ciclista é que, ao final de 4 semanas, a distância diária percorrida seja de 34.560 metros, quantos quilômetros ele deve percorrer no primeiro dia?

- (A) 20.
- (B) 25.
- (C) 30.
- (D) 35.

20. Um comerciante produz lembranças que vende a turistas por x reais cada uma. Com esse preço, ele sabe, por experiência, que seu lucro mensal é obtido da expressão $L(x) = 500(12 - x)(x - 4)$. Determine, em reais, o preço pelo qual ele deverá vender cada lembrança para obter o maior lucro mensal possível.

- (A) 4.
- (B) 8.
- (C) 12.
- (D) 16.

CONHECIMENTOS ESPECÍFICOS

21. Assinale a alternativa que corresponda respectivamente aos níveis de prevenção primária, secundária e terciária na história natural da doença:

- (A) Promoção da saúde, diagnóstico precoce e reabilitação.
- (B) Proteção específica, promoção da saúde e pronto atendimento.
- (C) Diagnóstico precoce, proteção específica e limitação da invalidez.
- (D) Promoção da saúde, educação em saúde e tratamento imediato.

22. Assinale a alternativa correta quanto à visita domiciliar:

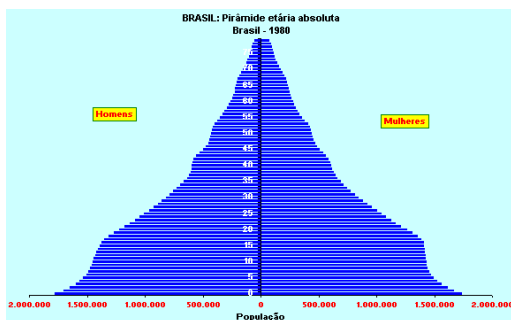
- (A) A visita domiciliar é uma atividade social do profissional de enfermagem ao paciente que não consegue obter assistência na unidade de saúde.
- (B) Todo paciente em atendimento domiciliar deve ter um prontuário na unidade de saúde para registro de informações e medidas adotadas.

- (C) Entre as desvantagens da visita domiciliar estão o maior gasto de tempo tanto na locomoção quanto na execução da visita, e os afazeres domésticos e horário de trabalho do paciente e/ou dos familiares.
- (D) As visitas domiciliares tem como objetivo levar orientação de educação em saúde, mas a assistência deve ser realizada na unidade de saúde devido a ausência de equipamentos específicos no domicílio.

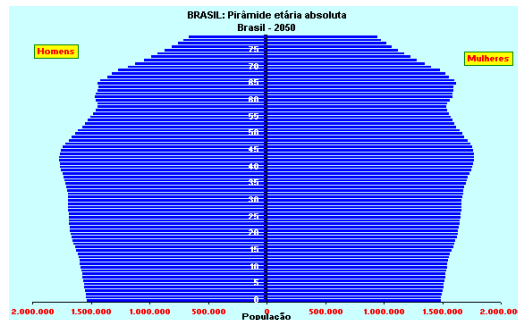
23. Assinale a alternativa que corresponde à correta confecção do coeficiente de mortalidade infantil:

- (A) Número de óbitos de menores de 1 ano em uma área e ano, dividido pelo número de nascidos vivos na mesma área e ano, multiplicado por 1.000.
- (B) Número de óbitos de menores de 5 anos em uma área e ano, dividido pelo número de nascidos vivos na mesma área e ano, multiplicado por 1.000.
- (C) Número de óbitos de menores de 1 ano em uma área e ano, dividido pelo número de nascidos vivos na mesma área e ano, multiplicado por 10.000.
- (D) Número de óbitos de menores de 3 anos em uma área e ano, dividido pelo número de nascidos vivos na mesma área e ano, multiplicado por 10.000.

24. Observe as figuras abaixo e assinale a que corresponde a sua correta interpretação:



Pirâmide etária de 1980



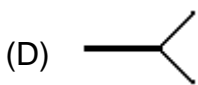
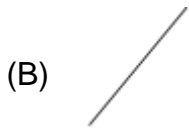
Pirâmide etária de 2050

- (A) A população está envelhecendo
- (B) A população infantil está aumentando
- (C) Os idosos estão morrendo na mesma proporção do que os adultos e as crianças
- (D) A expectativa de vida é a mesma em todas as faixas etárias.

25. Assinale a alternativa correta quanto às vacinas:

- (A) A vacina tríplice bacteriana é para imunização de difteria, hepatite B e febre amarela.
- (B) A vacina dupla viral é para imunização de tétano e coqueluche.
- (C) A BCG é para imunização de tuberculose e paralisia infantil.
- (D) A vacina tríplice viral é para imunização de rubéola, caxumba e sarampo.

26. Assinale abaixo o gráfico que corresponda ao ganho de peso e/ou altura da criança, que deve ser feito mensalmente em menores de 1 ano:



27. Assinale a alternativa que corresponda à definição incorreta dos métodos anticoncepcionais:

- (A) Diafragma é um anel de borracha flexível que deve ser colocado na vagina para cobrir completamente o colo do útero e impedir a entrada dos espermatozoides.
- (B) Espermicidas são produtos químicos que devem ser colocados no pênis antes da relação sexual para bloquear a movimentação dos espermatozoides.
- (C) O DIU é um artefato de metal ou polietileno que deve ser inserido dentro do útero impedindo a gravidez por mecanismo mecânico ou hormonal.
- (D) A pílula anticoncepcional é uma substância química que inibe a ovulação, altera o muco cervical e provoca alteração na motilidade das trompas.

28. Assinale a alternativa correta em relação ao aleitamento materno:

- (A) Em caso de ingurgitamento mamário a amamentação deve ser suspensa pelo risco de infecção ao bebê.
- (B) Em caso de ingurgitamento mamário deve ser usada bolsa de água morna sobre a mama para facilitar a descida do leite.
- (C) Para evitar o acúmulo de leite e o enchimento excessivo das mamas, o bebê deve, a cada mamada, mamar 10 minutos em cada mama.
- (D) A ordenha manual deve ser iniciada sempre do complexo aréolo-mamilar, e por último deve ser ordenhada a base da mama.

29. Assinale a alternativa que corresponda à falsa relação entre os fatores que influenciam os sinais vitais e seus efeitos:

- (A) O envelhecimento provoca aumento da pressão arterial, da frequência cardíaca e respiratória.

- (B) Levantar-se subitamente pode diminuir a pressão arterial.
- (C) A febre pode aumentar a frequência cardíaca e respiratória.
- (D) A dor aguda e a ansiedade podem aumentar a pressão arterial.

30. Assinale a alternativa que corresponda à falsa relação entre os anti-sépticos e sua utilização:

- I - PVP-I deve ser utilizado para anti-sepsia de pele (mão) e mucosas.**
- II - Álcool a 70% deve ser utilizado para anti-sepsia de superfícies.**
- III - Clorexidina deve ser utilizado para anti-sepsia de mãos, pele e cordão umbilical.**

- (A) Apenas as alternativas I e II estão corretas.
- (B) Apenas as alternativas II e III estão corretas.
- (C) Apenas as alternativas I e III estão corretas.
- (D) Todas as alternativas estão corretas.